
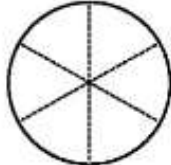
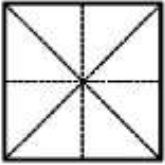





附件二

塗塗看：

第 () 組

<p>(1) 下圖是 1 條繩子，請塗出 $\frac{4}{5}$ 條繩子。</p> 	<p>(2) 下圖是 1 張蔥油餅，請塗出 $\frac{4}{6}$ 張蔥油餅。</p> 
<p>(3) 下圖是 1 張色紙，請塗出 $\frac{3}{8}$ 張色紙。</p> 	<p>(4) 下圖是 1 包糖果，裡面有 12 顆糖果，請塗出 $\frac{1}{12}$ 包糖果。</p> 
<p>(5) 下圖是 1 箱飲料，裡面有 9 瓶飲料，請塗出 $\frac{9}{10}$ 箱飲料。</p> 	<p>(6) 下圖是 1 盒蘋果，裡面有 9 顆蘋果，請塗出 $\frac{2}{9}$ 盒蘋果。</p> 

(1~4 題各組分配各講解一題，其餘 2 題可當作加分題，讓學習較為落後的學生試著說說看)