

四年級數學複習(含應用題)

四年級數學複習(含應用題) 康軒版

0 plays · 0 players

 A private kahoot

Questions (20)

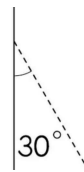
1 - Quiz

想想看，算式「 $49 - 49 - 49 = 49$ 」中，在何處加上一個()，就能讓這個算式成立？

90 sec

2 - Quiz

如圖，沿著虛線剪下，剪下的那一塊打開後會是什麼三角形？



90 sec

3 - Quiz

哥哥有110元，弟弟有55元，媽媽再給弟弟25元後，哥哥和弟弟相差多少元？下面哪一個算式是對的？

90 sec

4 - Quiz

一個三角形中，最多有幾個鈍角？

90 sec

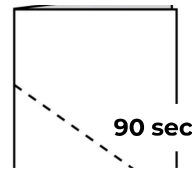
5 - Quiz

想想看，□裡各填上什麼運算符號，才能使算式成立。 $4 \square (4 \square 2) = 2$

90 sec

6 - Quiz

如圖，沿著虛線剪下，剪下的那一塊打開後會是什麼三角形？



90 sec

7 - Quiz

一個四位數除以48得到的商是一個二位數，那麼這個四位數可能是多少

120 sec

8 - Quiz

想想看，算式「 $15 - 8 - 3 = 10$ 」中，在何處加上一個()，就能讓這個算式成立？

120 sec

9 - Quiz

4815÷**9**得到的商是一個二位數，那麼**□**可能是多少？

120 sec

10 - Quiz

想想看，**□**裡各填上什麼運算符號，才能使算式成立。**4□(4□4) = 4**

90 sec

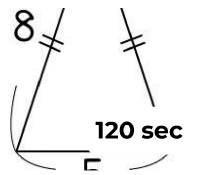
11 - Quiz

有**525**個小朋友，平分成**15**組跳大會操，一組有幾個小朋友？

90 sec

12 - Quiz

下圖是一個等腰三角形，它的周長是多少公分？



120 sec

13 - Quiz

12個書夾裝成一盒，**10**盒裝成一箱，姐姐買了**3**箱，一共是多少個？

90 sec

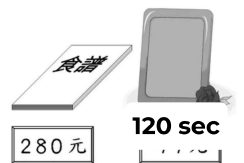
14 - Quiz

奶茶小鋪今天上午賣出**45**杯奶茶、中午賣出**105**杯奶茶、晚上賣出**138**杯奶茶，一共賣出多少杯奶茶？

120 sec

15 - Quiz

如芬帶了一些錢，買了一本食譜和一個相框後，還剩**371**元，如芬帶了多少元？



120 sec

16 - Quiz

宏明收集了**107**張卡片，冠華的卡片比宏明少**24**張，茂杰的卡片比冠華多**11**張，茂杰有幾張卡片？

120 sec

17 - Quiz

撲滿裡有**165**個五元硬幣，把裡面的錢平分給**15**個人，每個人可以平分到多少元？

90 sec

18 - Quiz

一包冷凍包子有**5**個，每個**17**元，姐姐買了**16**包，共要多少元？

90 sec

19 - Quiz

做一朵裝飾花需要**38**公分的緞帶，有一捲長**7**公尺的緞帶，最多可以做幾朵裝飾花？

90 sec

20 - Quiz

幼兒園團體旅遊，中型巴士可載**18**人，總共有**45**個小朋友和**22**個大人參加，需要幾輛中型巴士才夠？

120 sec

Resource credits

Description: Eugene Mymrin/Moment/Getty Images