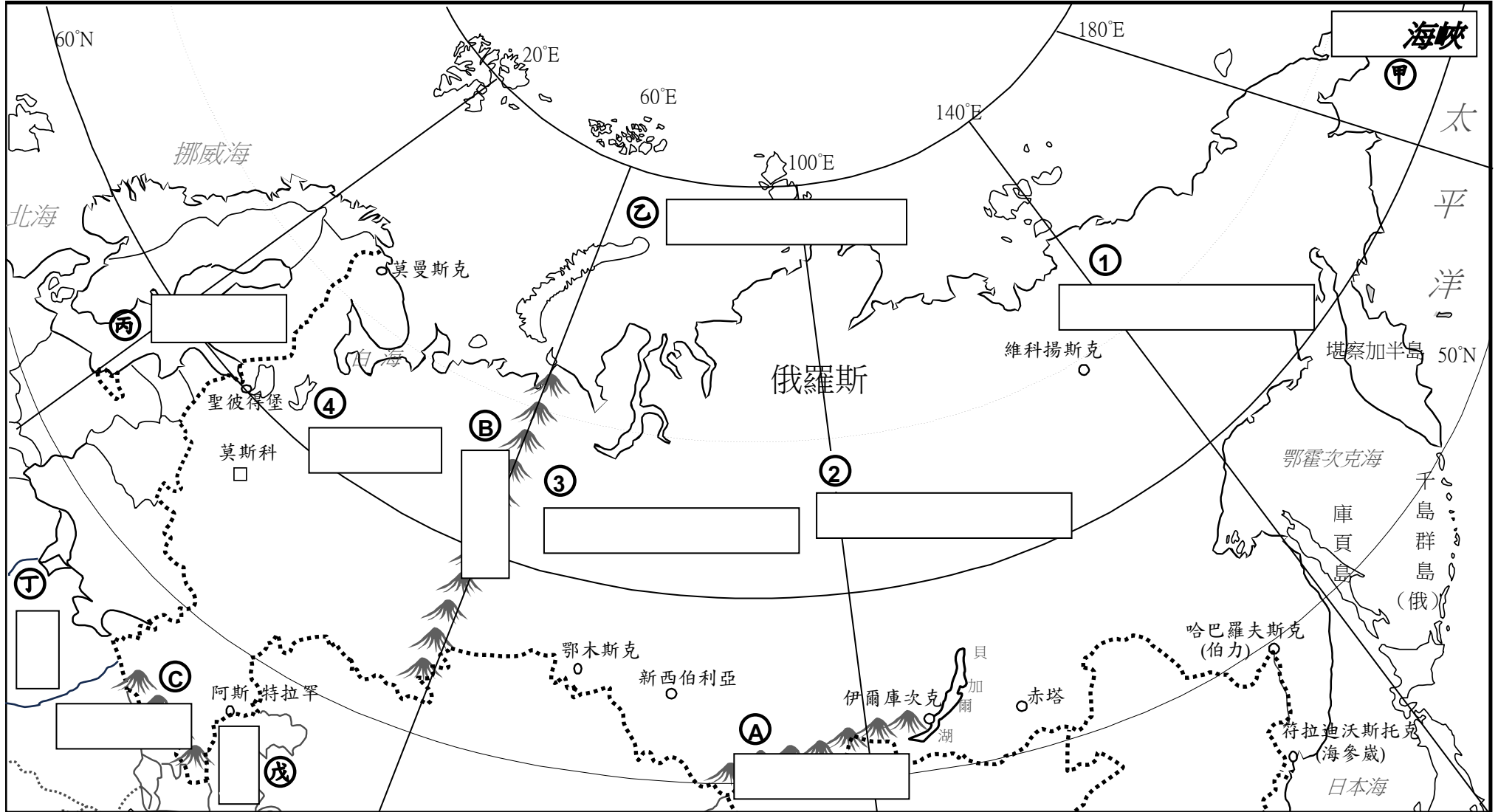


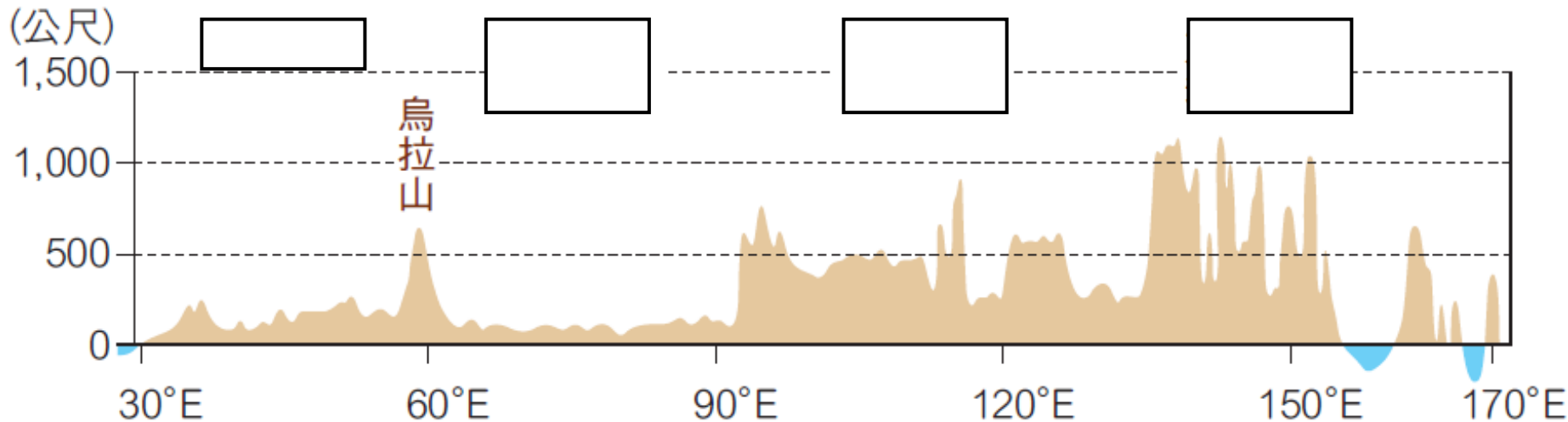
單元二 歐洲區域特色與俄羅斯

一、認識俄羅斯的地形 (一) 請完成下圖空格 ①~④地形區 A~C山脈 甲~戊海域

(二) 請將水域用色鉛筆塗上淡藍色 (三) 請將不屬於俄羅斯的領土(陸域)用色鉛筆塗上灰色

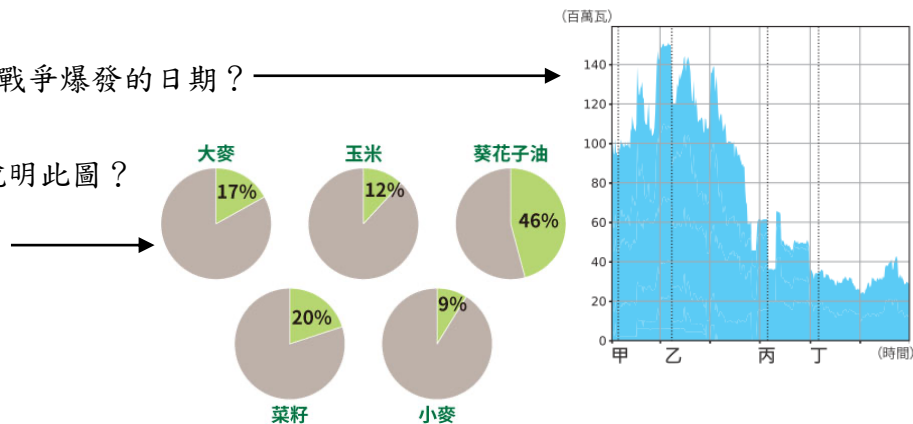


(二) 請填寫出下圖空格所代表的地形區



二、課後閱讀學習單 烏俄戰爭對世界糧食安全的影響

1. () 根據文中資料，烏克蘭應屬於歐洲的哪個分區？ (A)東歐 (B)西歐 (C)南歐 (D)北歐
2. () 俄羅斯主要生產小麥的地區應位於附圖哪個地區？ (A)甲 (B)乙 (C)丙 (D)丁
3. () 烏克蘭與俄羅斯相鄰，長久以來深受俄羅斯的文化影響，例如：甲宗教與俄羅斯語。在戰爭爆發後，烏克蘭人民開始與俄羅斯切割，部分民眾將聖誕節的慶祝日期，由原本以甲宗教為主的1月7日，改為全球習慣的12月25日。甲宗教應為下列何者？
(A)基督教 (B)東正教 (C)印度教 (D)伊斯蘭教
4. () 附圖為俄羅斯出口到歐洲的能源變化圖，圖中甲~丁何者最接近烏俄戰爭爆發的日期？
(A)甲 (B)乙 (C)丙 (D)丁
5. () 附圖為2021年烏克蘭占全球農產品出口比例圖，下列敘述哪項最能說明此圖？
(A)烏克蘭為全球重要能源出口國 (B)烏克蘭為全球主要農產進口國
(C)全球有近半的小麥產自烏克蘭 (D)全球葵花子油可能因戰爭短缺



三、課後統整站 請用螢光筆畫重點並增加自己的筆記

1. 歐洲區域特色

	南歐	西歐	北歐	東歐
發展背景	① 三大半島：伊比利、義大利、巴爾幹半島南部 ② 溫帶地中海型氣候	① 島國：英國、愛爾蘭 ② 其他國家水陸運輸便利（例如：荷蘭鹿特丹的轉口貿易）	① 擁有豐富自然資源，經濟實力雄厚 ② 社會福利制度完善	蘇聯解體後，進行經濟改革，經濟快速成長
產業發展與問題	* 主要發展一、三級產業 ① 農業：耐旱的葡萄、橄欖（因雨季非生長季） ② 工業：義大利較發達，例如：法拉利跑車 ③ 觀光業：希臘（古文明遺址）等	* 工業發達 ① 英國：以煤礦發展工業成為經濟強國、北海發現石油 ② 德國：多煤礦、技術佳，例如：賓士、寶馬汽車 ③ 法國：時尚產業、工業發達，例如：航太、捷運、高鐵	* 社會福利佳因支付社會福利、人口老化問題，青壯年稅金負擔重	* 經濟快速成長 ① 優勢：勞力便宜，吸引各國設廠 ② 新興工業區：以代工、工業零組件生產為主

2. 俄羅斯

(1) 位置：

- 以烏拉爾山為界，地跨歐、亞兩洲，是全球面積最大的國家。
- 北臨北極海，鄰近北極地區，交通與戰略位置重要。

(2) 地形：因國土跨越經緯度大，各地自然環境差異大。

地理區	歐俄平原	烏拉爾山	西伯利亞				地勢	河川
			西	中	東			
成因	歐洲大平原一部分	平原	高原	山地	北—南	低—高	北	
特徵	地勢平坦			板塊擠壓				南
				a. 地勢高聳 b. 多火山地震				

(3) 氣候：西側多屬溫帶大陸性氣候，夏季為主要的降水季節。

	分布	成因	特徵
寒帶氣候	近北極圈地區	緯度高	a. 全年低溫、冷乾，冬季嚴寒漫長 b. 年溫差大
溫帶大陸性氣候	西側地區	位居內陸	夏季為主要的降水季節
溫帶季風氣候	東南沿海	夏季受東南季風影響	降水量較多，受水氣調節，年溫差略小

(4) 人口與文化概況：人口分布與產業發展，深受自然環境的限制。

語言、生活習慣相似		人口約 1.4 億	
民族	斯拉夫民族	分布不均	集中歐俄平原（地形平坦、降水較多）
宗教	東正教		

(5) 產業

	農業	工礦業
產業發展	① 位處高緯，多不利農耕 ② 僅歐俄平原可發展農業（夏溫度較高、降水較多）	① 天然資源豐富：木材、煤、鐵、石油、天然氣產量多， 例如：烏拉爾山（煤鐵）、西伯利亞（石油、天然氣） ② 石油外銷歐、美，遠東油管可輸出至中國、日本 ③ 過度仰賴礦產與能源出口，經濟易受國際市場價格波動影響